

บทที่
1

แบบฝึกทักษะที่ 1.1
เรื่อง การนับหนึ่งถึงห้า และศูนย์



คำสั่ง

นับจำนวนสัตว์และระบายสี



ให้เท่ากับจำนวนสัตว์

1.

2.



3.




4.



5.



6.




ชื่อ _____

เลขที่ _____

เรื่อง จำนวนนับ 1 ถึง 10 และ 0

แบบฝึกหัด

คำชี้แจง : นับจำนวนสัตว์และระบายสี  ให้เท่ากับจำนวนสัตว์


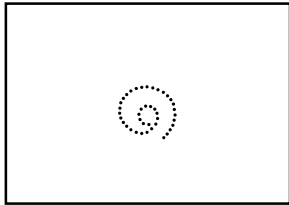
<p>1.</p> 	
<p>2.</p> 	
<p>3.</p> 	
<p>4.</p> 	
<p>5.</p> 	
<p>6.</p> 	
<p>7.</p> 	
<p>8.</p> 	

เรื่อง จำนวนนับ 1 ถึง 10 และ 0



แบบฝึกหัด

คำชี้แจง : จงโยงเส้นระหว่างตัวเลขกับตัวอักษรซึ่งเขียนแสดงจำนวนเดียวกัน และเขียนตามเส้นประให้ถูกต้อง


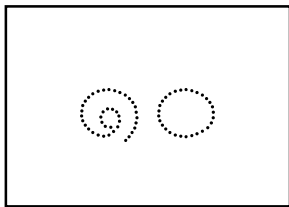
1.





2.





3.





4.



5.













6.



เรื่อง จำนวนนับ 1 ถึง 10 และ 0

แบบฝึกหัด

คำชี้แจง : จงโยงเส้นระหว่างตัวเลขกับตัวอักษรซึ่งเขียนแสดงจำนวนเดียวกัน

1.  
2.  
3.  
4.  
5.  
6. 