





คำชี้แจง : จากแผนภูมิรูปภาพที่กำหนด จงตอบคำถามต่อไปนี้

แผนภูมิรูปภาพแสดงจำนวนบ้านจัดสรรของบริษัทแห่งหนึ่งที่ขายได้ในเวลา 5 เดือน

สิงหาคม	
กันยายน	
ตุลาคม	
พฤศจิกายน	
ธันวาคม	

กำหนดให้  แทน บ้าน 8 หลัง


- 1) เดือนใดขายบ้านได้จำนวนมากที่สุด และขายได้กี่หลัง
.....
- 2) เดือนใดขายบ้านได้จำนวนน้อยที่สุด และขายได้กี่หลัง
.....
- 3) จำนวนบ้านที่ขายได้ในเดือนกันยายนและเดือนพฤศจิกายนแตกต่างกันอยู่เท่าไร
.....
- 4) จำนวนบ้านที่ขายได้ในเดือนสิงหาคมถึงเดือนธันวาคมขายบ้านได้กี่หลัง
.....
- 5) เฉลี่ยแล้วในระยะเวลา 5 เดือน แต่ละเดือนขายบ้านได้กี่หลัง
.....
- 6) นายชาติเป็นพนักงานขายของบริษัทแห่งนี้ บริษัทจะให้เงินพิเศษแก่พนักงานสำหรับทุกๆ เดือนที่มียอดขายรวมเกิน 35 หลัง อยากทราบว่าเดือนใดบ้างที่นายชาติจะได้รับเงินพิเศษ
.....



คำชี้แจง : จากแผนภูมิรูปภาพที่กำหนด จงตอบคำถามต่อไปนี้

จำนวนคัพเค้กที่ร้านเบเกอรี่ขายได้ใน 1 สัปดาห์

จันทร์	
อังคาร	
พุธ	
พฤหัสบดี	
ศุกร์	
เสาร์	
อาทิตย์	

กำหนดให้  1 รูป แทน จำนวนคัพเค้กที่ร้านเบเกอรี่ขายได้ 20 ชิ้น

1. วันใดขายคัพเค้กได้มากที่สุด ได้กี่ชิ้น
.....
2. วันใดขายคัพเค้กได้น้อยที่สุด ได้กี่ชิ้น
.....
3. วันใดขายคัพเค้กได้เท่ากัน ได้กี่ชิ้น
.....
4. ยอดขายคัพเค้กในวันอังคารต่างจากวันอาทิตย์กี่ชิ้น
.....
5. ระหว่างช่วงวันจันทร์ถึงวันศุกร์กับช่วงวันเสาร์ถึงวันอาทิตย์ ช่วงใดมียอดขายคัพเค้กเฉลี่ยมากกว่ากัน และมากกว่ากันกี่ชิ้น (โดยประมาณ)
.....
6. ถ้าขายคัพเค้กราคาชิ้นละ 15 บาทใน 1 สัปดาห์จะได้เงินทั้งหมดกี่บาท
.....
7. จากข้อ 6. ถ้าเสียเงินซื้อส่วนผสมของแซนวิชเฉลี่ยวันละ 1,400 บาท ใน 1 สัปดาห์จะได้กำไรหรือขาดทุนร้อยละเท่าใด
.....
8. ถ้าขายคัพเค้กราคาชิ้นละ 12 บาท ในวันพุธจะได้เงินกี่บาท
.....

